

Intrebare #1.
Ce va este interzis in situatia data?

- A. indicatorul se adreseaza conducatorilor mijloacelor de transport public de persoane;
- B. sa circulati cu o viteza mai mica de 60 km/h;
- C. sa circulati cu o viteza mai mare de 60 km/h.



13 comentarii

Intrebare #2.
Cum trebuie sa aveti reglat sistemul de lumini pentru circulatia pe timp de noapte?

- A. astfel incat sa vedeti si sa fiti vazut, fara a-i stanjeni pe ceilalti participanti la trafic;
- B. sa vedeti cat mai bine in fata, indiferent daca sunt deranjati ceilalti participanti la trafic cu care va intersectati;
- C. sa asigurati, cel putin, functionarea farului din partea dreapta.

0 comentarii

Intrebare #3.
Cum trebuie sa procedati in situatia data, daca semnalele luminoase si sonore nu functioneaza?

- A. opriti fara a depasi calea ferata, va asigurati si va continuati deplasarea, daca nu se apropie trenul;
- B. reduceti viteza si va continuati deplasarea, dupa ce va asigurati ca nu se apropie trenul;
- C. opriti numai daca se apropie trenul.



5 comentarii

Intrebare #4.
Precizati daca presiunea din pneuri are efect asupra consumului de carburant:

- A. da;
- B. nu;
- C. numai in cazul vehiculelor de mare tonaj.



0 comentarii

Intrebare #5.
Conducatorul auto prevazator are in vedere:

- A. sa fie odihnit, iar autovehiculul sa corespunda din punct de vedere tehnic pentru circulatia pe drumurile publice;
- B. sa aiba asigurata presiunea normala la roata de rezerva;
- C. sa observe inaintea altora locurile in care este amplasat aparatul RADAR.

0 comentarii


Intrebare #6.
Depasirea vehiculelor pe drumurile publice este interzisa:

	A. pe portiunile de drum unde oprirea este interzisa;
<input checked="" type="checkbox"/>	B. in intersecțiile cu circulatie nedirijata;
	C. pe drumurile publice cu o singura banda pe sens.

0 comentarii

Intrebare #7.

Daca vreti sa parasiti autostrada:

	A. mariti viteza;	
	B. circulati cu aceeasi viteza;	
<input checked="" type="checkbox"/>	C. reduceti viteza.	

15 comentarii

Intrebare #8.

Se aplica puncte de penalizare pentru:

<input checked="" type="checkbox"/>	A. Nerespectarea semnificatiei indicatorului Oprire , instalat la trecerea la nivel cu o cale ferata;
<input checked="" type="checkbox"/>	B. Depasirea cu 31-40 km/h a vitezei maxime admise pe sectorul de drum respectiv pentru categoria din care face parte autovehiculul condus;
<input checked="" type="checkbox"/>	C. Depasirea cu 10-20 km/h a vitezei maxime admise pe sectorul de drum respectiv pentru categoria din care face parte autovehiculul condus.

11 comentarii

Intrebare #9.

In ce situatie este interzisa intoarcerea?

	A. in apropierea statiilor de tramvai;
	B. cand vizibilitatea este redusa sub 100 m;
<input checked="" type="checkbox"/>	C. in locurile unde soliditatea drumului nu permite.

3 comentarii

Intrebare #10.

In functie de starea accidentatului, masurile de prim ajutor se vor lua in urmatoarea ordine

	A. oprirea hemoragiei, pansarea ranilor, imobilizarea fracturilor, respiratia artificiala, masajul cardiac
<input checked="" type="checkbox"/>	B. respiratia artificiala, masajul cardiac, oprirea hemoragiei, pansarea ranilor, imobilizarea fracturilor
	C. imobilizarea fracturilor, pansarea ranilor, respiratia artificiala, masajul cardiac, oprirea hemoragiei

0 comentarii

Intrebare #11.

Ce vă indică, de regulă, faptul că bateria de acumulatori este descărcată?

<input checked="" type="checkbox"/>	A. la aprinderea farurilor, intensitatea luminoasă a acestora scade progresiv;
<input checked="" type="checkbox"/>	B. acționând claxonul, acesta emite un sunet slab, întrerupt;

C. demontând bateria, constatăm că aceasta este mai ușoară decât de obicei.

0 comentarii

Intrebare #12.

La semnalul nevăzătorilor care traversează strada sunteți obligați:

A. să reduceți viteza autovehiculului și să circulați cu atenție;

B. să opriți autovehiculul;

C. să reduceți viteza autovehiculului și să claxonati.

0 comentarii

Intrebare #13.

În care dintre situații oprirea este interzisă:

A. pe străzile cu sens unic;

B. în intersecțiile cu sens giratoriu;

C. în dreptul indicatorului Parcare interzisă?.

0 comentarii

Intrebare #14.

Care este traseul de urmat pentru autoturismul din imagine?

A. traseul 1;

B. traseul 2;

C. oricare dintre cele două, dacă respecta toate prevederile legii.



0 comentarii


Intrebare #15.

Intenționați să virati la dreapta. Cum procedați cu pietonii care traversează regulamentar strada?

A. virati fără ezitare, deoarece pietonii sunt obligați să aștepte;

B. acordați prioritate pietonilor care se află pe sensul dvs. de mers;

C. dați semnale de avertizare sonoră, pentru ca pietonii să vă permită trecerea.



1 comentarii

Intrebare #16.

Conducătorii de vehicule trebuie să respecte regulile de circulație, generale și particulare, în următoarea ordine:

A. semnalele, indicațiile și dispozițiile polițistului rutier; semnalele speciale de avertizare, luminoase sau sonore, ale autovehiculelor cu regim de circulație prioritara; semnalizarea temporara;

B. semnalele, indicațiile și dispozițiile polițistului rutier; semnalizarea temporara; semnalele speciale de avertizare, luminoase sau sonore, ale autovehiculelor cu regim de circulație prioritara;

C. semnalele speciale de avertizare, luminoase sau sonore, ale autovehiculelor cu regim de circulație prioritara; semnalele, indicațiile și dispozițiile polițistului rutier; semnalizarea

temporara.

0 comentarii

Intrebare #17.

Lumina galbena intermitenta instalata in zona trecerilor pentru pietoni va obliga la:

- A. reducerea vitezei, avand grija sa feriti pietonii care traverseaza;
- B. reducerea vitezei si folosirea luminii farurilor, pentru avertizarea pietonilor care intentioneaza sa se angajeze in traversare;
- C. reducerea vitezei si respectarea semnalizarii si a regulilor de circulatie aplicabile in acea zona.

0 comentarii

Intrebare #18.

Ce comportament este corect in situatia prezentata, daca va aflati la volanul autoturismului verde?

- A. intrati cu atentie in intersectie si virati numai la stanga;
- B. opriti si nu intrati in intersectie;
- C. aveti voie sa virati la dreapta.



0 comentarii

Intrebare #19.

Sunteți obligat să nu depășiți viteza de 50 km/h în afara localităților, în următoarele situații:

- A. pe poduri sau sub poduri;
- B. la trecerea pe lângă grupuri organizate, coloane militare sau cortegii, pe drumurile cu o singură bandă pe sens;
- C. în curbe deosebit de periculoase sau cu vizibilitate mai mică de 50 m.

5 comentarii

Intrebare #20.

Indicatorul interzice:

- A. depasirea;
- B. deplasarea pe directia inainte dupa prima intersectie;
- C. schimbarea directiei de mers in prima intersectie.



0 comentarii

Intrebare #21.

Ce obligatii aveti daca, pe drumul pe care circulati, observati evenimente de natura a pune in pericol siguranta circulatiei?

- A. sa semnalizati participantii la trafic care circula din sens opus;
- B. sa emiteti semnale acustice;
- C. sa sesizati cea mai apropiata unitate de politie in legatura cu obstacolele care pun in pericol siguranta circulatiei.

0 comentarii

Intrebare #22.**Intr-o zona rezidentiala semnalizata ca atare:**

- A. copiii nu se pot juca pe partea carosabila;
- B. pietonii pot folosi toata latimea partii carosabile;
- C. viteza maxima admisa este de 30 km/h.

0 comentarii


Intrebare #23.**Cum se sanctioneaza nerespectarea semnalelor politistilor la trecerea coloanelor oficiale sau intercalarea intr-o astfel de coloana?**

- A. cu amenda penala
- B. cu amenda contraventionala si suspendarea exercitarii dreptului de a conduce autovehicule
- C. cu amenda contraventionala si puncte de penalizare

0 comentarii

Intrebare #24.**Cum procedati in aceasta situatie, daca semafoarele nu functioneaza?**

- A. acordati prioritate de stanga;
- B. acordati prioritate de dreapta;
- C. aveti prioritate.



0 comentarii

Intrebare #25.**Unde opriți în situația prezentată?**

- A. în locul cu vizibilitate maximă, fără a depăși indicatorul;
- B. la cel puțin 5 m;
- C. la cel puțin 10 m.



1 comentarii

Intrebare #26.**In ce ordine vor intra autovehiculele in intersectie?**

- A. motocicleta, autocamionul, autoturismul;
- B. motocicleta, autoturismul, autocamionul;
- C. autocamionul, motocicleta, autoturismul.

