

- 1. În sensul conducerii ecologice a unui autovehicul, se recomandă:
- **A** să evitați transportul obiectelor inutile în portbagaj sau în habitacul;
- **B** să nu aveți montat în permanență pe autovehicul portbagajul suplimentar;
- **C** să utilizați spoiler și faruri suplimentare.



- 2. Indicatorul interzice accesul:
 - **A** autoturismelor, motocicletelor fără ataș și vehiculelor cu tracțiune animală;
 - **B** autovehiculelor și vehiculelor cu tracțiune animală;
 - **C** autoturismelor, motocicletelor și vehiculelor împinse sau trase cu mâna.
- 3. Cum se sancționează depășirea pe partea dreaptă a sensului de mers, fără semnalizare și încadrare corespunzătoare direcției de deplasare?
 - **A** cu amendă contravențională și puncte de penalizare;
 - **B** cu amendă contravențională;
 - **C** cu amendă contravențională și suspendarea exercitării dreptului de a conduce autovehiculul.



- 4. Cum este corect să procedați dacă părăsiți drumul prioritar?
- **A** aveți prioritate, deoarece vă aflați pe un drum prioritar;
- **B** cedați trecerea vehiculelor care vin din față;
- **C** cedați trecerea vehiculelor care vin din dreapta.



- 5. Principala cauză a exploziei pneului în timpul mersului este:

- **A** umflarea insuficientă;
- **B** umflarea exagerată;
- **C** uzura moderată.

- 6. În care dintre situațiile de mai jos este interzisă oprirea vehiculelor pe drumurile publice?

- **A** în intersecțiile cu sens giratoriu;
- **B** în zona de acțiune a indicatorului „Staționarea interzisă“;
- **C** pe arterele cu un singur sens de circulație.



- 7. În ce ordine vor intra autovehiculele în intersecție?

- **A** motocicletă, autocamionul, autoturismul;
- **B** motocicletă, autoturismul, autocamionul;
- **C** autocamionul, motocicletă, autoturismul.

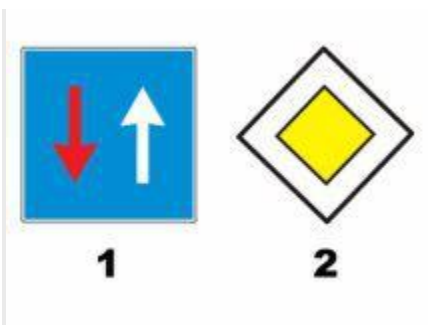
- 8. Ce deprindere greșită a conducătorului auto determină frecvent defectarea ambreiajului?

- **A** coborârea pantelor cu motorul oprit sau aducerea schimbătorului de viteze în punctul mort;
- **B** rularea cu jocuri mari la pedala de ambreiaj sau la mecanismul de direcție;
- **C** așteptarea la semafor având pedala de ambreiaj apăsată.

- 9. Conducătorul unui vehicul este obligat să acorde prioritate de trecere într-o intersecție neregulată dacă:
 - **A** pătrunde pe un drum județean, venind de pe un drum național;
 - **B** pătrunde pe un drum național, venind de pe un drum județean, comunal sau local;
 - **C** pătrunde pe un drum comunal sau local, venind de pe un drum județean.
- 10. Dacă circulați într-o intersecție cu sens giratoriu, acordați prioritate:
 - **A** niciunui vehicul;
 - **B** vehiculelor care urmează să intre în intersecție;
 - **C** autobuzelor și troleibuzelor.

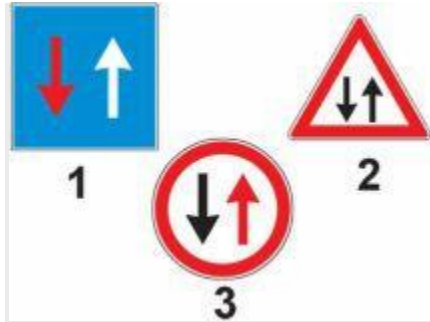


- 11. Vă este permis să depășiți bicicliștii?
 - **A** da, dacă prin claxonare bicicliștii sunt determinați să se angajeze cât mai spre dreapta;
 - **B** nu, pentru că din cauza circulației din sens opus nu se poate păstra o distanță laterală corespunzătoare;
 - **C** bicicliștii pot fi depășiți fără restricții.




- 12. Care dintre cele două indicatoare îți conferă prioritate?
 - **A** indicatorul 1;
 - **B** indicatorul 2;
 - **C** nici unul din indicatoare.

- 13. Ce măsuri ia conducătorul de autovehicul, angajat într-un accident cu avarii ușoare?
- **A** așteaptă sosirea polițistului din zonă;
- **B** scoate autovehiculul în afara părții carosabile și anunță poliția în termen de 24 de ore;
- **C** anunță poliția, fără a schimba poziția autovehiculului.



- 14. Care dintre indicatoare conferă prioritatea de trecere?
 - **A** indicatorul 1;
 - **B** indicatorul 2;
 - **C** indicatorul 3.
- 15. Circulați cu un autoturism cu remorcă pe o șosea cu o singură bandă pentru fiecare direcție și vă apropiați de o curbă la stânga, foarte strânsă și fără vizibilitate. Cum trebuie să adaptați modul de conducere?
 - **A** reduceți viteza înaintea curbei, din cauza pericolului mărit de derapare a remorcii;
 - **B** reduceți viteza, circulați pe mijlocul benzii și accelerați ușor când ajungeți în vârful curbei;
 - **C** mențineți viteza, iar în curbă frânați.
- 16. Ce regulă de prioritate se aplică într-o intersecție neregulată din afara localității?
 - **A** prioritatea vehiculului cu regim superior de viteză;
 - **B** prioritatea drumului principal;
 - **C** prioritatea de dreapta.
- 17. Care dintre următoarele tipuri de carosabil este cel mai periculos în condiții de ploaie?
 - **A** carosabilul cu suprafața asfaltată;
 - **B** carosabilul cu suprafața betonată;
 - **C** carosabilul cu piatră cubică.
- 18. Căile respiratorii pot fi astupate prin:

- **A** așezarea pe spate a victimei;
 - **B** așezarea pe o parte a victimei;
 - **C** intrarea unor corpi străini pe căile respiratorii.
- **19.** La ce trebuie să vă așteptați atunci când, în fața dvs., a oprit în stație un autobuz destinat transportului de călători?
- **A** urmează o intersecție, întrucât majoritatea stațiilor mijloacelor de transport în comun se amenajează în astfel de locuri;
 - **B** este posibil ca unii călători să coboare și să traverseze prin fața autobuzului, fără a se asigura în mod corespunzător;
 - **C** la plecarea din stație, autobuzul poate să-și schimbe direcția de mers spre stânga, fără să se asigure.
- **20.** Bastonul alb, ridicat de un pieton care traversează strada printr-un loc nesemnalizat și nemarcat, vă obligă:
- **A** nu aveți nicio obligație, întrucât locul nu este marcat sau semnalizat;
 - **B** să opriți imediat autovehiculul, pentru a permite trecerea pietonului;
 - **C** să reduceți viteza și să circulați cu atenție.



- **21.** Care dintre panourile adiționale alăturate indică distanța între indicator și începutul unui loc periculos?
 - **A** panoul 1;
 - **B** panoul 2;
 - **C** ambele panouri.
- **22.** Care dintre faptele de mai jos, comise într-un interval de 12 luni de la restituirea permisului de conducere, atrag sancțiunea contravențională de suspendare a exercitării dreptului de a conduce autovehicule, pentru 60 de zile?
- **A** încălcarea dispozițiilor legale cu privire la semnalizarea schimbării direcției de mers;
 - **B** încălcarea dispozițiilor legale cu privire la folosirea luminilor din dotare pe timp de noapte;

- **C** acumularea din nou a cel puțin 15 puncte de penalizare.



- **23.** Dacă virați la stânga:
 - **A** ați selectat corect banda de circulație, dar opriți, pentru că semaforul este pe culoarea roșie;
 - **B** ați selectat bine banda de circulație, deci vă continuați deplasarea;
 - **C** puteți vira numai la dreapta.
- **24.** Puteți trece cu autovehiculul peste o linie continuă dacă:
 - **A** linia continuă este însoțită de una discontinuă, iar aceasta din urmă este mai apropiată de sensul dvs. de deplasare;
 - **B** aceasta este aplicată pe drumuri cu mai mult de o bandă pe sensul de mers;
 - **C** aceasta separă sensurile de circulație.
- **25.** Într-o intersecție nedirijată, conducătorul unui vehicul este obligat să acorde prioritate de trecere unui autovehicul al ambulanței care circulă din partea stângă, având în funcțiune dispozitivul special cu lumini de culoare albastră și pe cel sonor?
 - **A** nu, deoarece în acest caz se aplică regula priorității de dreapta;
 - **B** nu, deoarece ambulanța nu face parte din categoria autovehiculelor cu regim prioritar;
 - **C** da.



- **26.** Ce interzice indicatorul alăturat?

- **A** accesul vehiculelor care transportă mărfuri periculoase;
- **B** accesul vehiculelor cu gabarit depășit;
- **C** accesul vehiculelor care transportă substanțe explozive sau ușor inflamabile.