

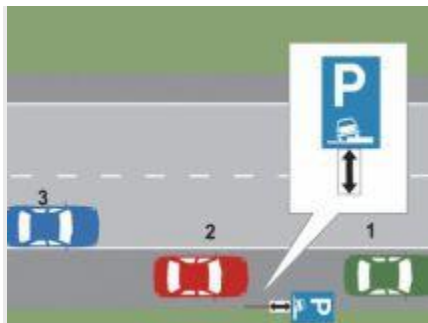
- 1. În care dintre situații sunteți obligat să reduceți viteza?
 - **A** la trecerea la nivel cu calea ferată curentă cu bariere;
 - **B** la trecerea la nivel cu calea ferată curentă fără bariere;
 - **C** la trecerea la nivel cu calea ferată curentă industrială.

- 2. În ce situație poate fi reținut certificatul de înmatriculare al unui vehicul?
 - **A** autovehiculul are aplicate afișe publicitare;
 - **B** datele din certificatul de înmatriculare nu concordă cu caracteristicile tehnice ale vehiculului;
 - **C** deținătorul nu face dovada încheierii asigurării auto de răspundere civilă.

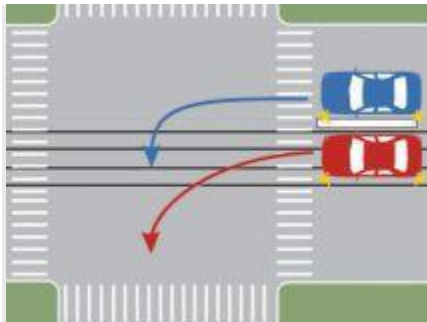
- 3. Se interzice circulația pe drumurile publice a autovehiculului dacă:
 - **A** mecanismul de direcție prezintă uzuri peste limitele admise;
 - **B** autovehiculul are aplicate inscripții, desene, semne distinctive sau reclame de natură să împiedice ori să diminueze eficacitatea dispozitivelor de iluminare și de semnalizare luminoasă sau citirea numărului de înmatriculare;
 - **C** autovehiculul are montate accesorii pe parbrize ori pe geamurile laterale, care restrâng sau estompează vizibilitatea conducătorului în timpul mersului.

- 4. Într-o zonă rezidențială semnalizată ca atare:
 - **A** copiii nu se pot juca pe partea carosabilă;
 - **B** pietonii pot folosi toată lățimea părții carosabile;
 - **C** viteza maximă admisă este de 30 km/h.

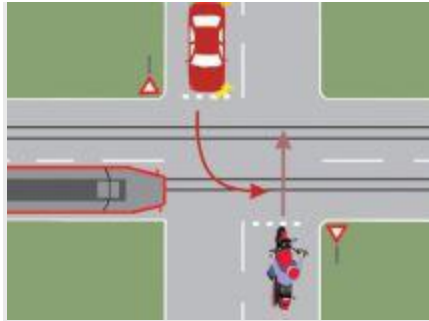
- 5. Ce obligații aveți, în calitate de conducător auto?
 - **A** să circulați cu o viteză cel puțin egală celei prescrise de indicatorul „Viteză minimă obligatorie“;
 - **B** să nu accelerați în intersecție;
 - **C** să circulați cu o viteză inferioară celei înscrise în indicatorul „Viteză minimă obligatorie“.



- **6.** Care dintre cele trei autovehicule a parcat regulamentar?
 - **A** niciunul;
 - **B** autoturismul 3;
 - **C** autoturismele 1 și 2.
-
- **7.** În care dintre situații este interzisă depășirea?
 - **A** în apropierea vârfurilor de rampă, când vizibilitatea este redusă sub 50 m;
 - **B** în curbe, dacă vizibilitatea este redusă sub 50 m;
 - **C** la întâlnirea indicatorului „Drum cu prioritate“.
-
- **8.** Sunteți obligat să opriți la semnalele date de:
 - **A** îndrumătorii de circulație ai Ministerului Apărării;
 - **B** conducătorii vehiculelor de ambulanță;
 - **C** inspectorii primăriei.
-
- **9.** Trecerea peste marcajul discontinuu este permisă:
 - **A** în orice situație, acesta având un caracter orientativ;
 - **B** atunci când un asemenea marcaj nu delimitează cele două sensuri de circulație;
 - **C** la schimbarea benzii de circulație, a direcției de mers sau la depășire.



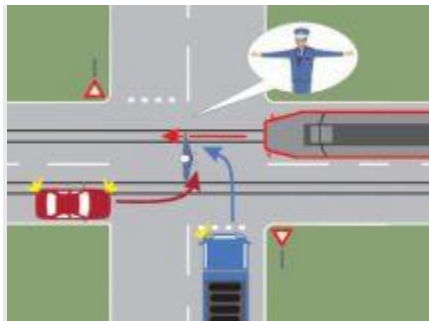
- **10.** Care dintre autoturisme s-a încadrat corect pentru a schimba direcția de mers?
- **A** autoturismul roșu;
- **B** autoturismul albastru;
- **C** ambele autoturisme.



- **11.** Care dintre cele trei vehicule va trece ultimul prin intersecție?
- **A** motocicleta;
- **B** autoturismul;
- **C** tramvaiul.

- **12.** Precizați când sunt scutiți instructorii auto de purtarea centurii de siguranță:
- **A** în timpul orelor de pregătire a cursanților;
- **B** în permanență, când se află în autovehiculele cu inscripția „ȘCOALA“;
- **C** legal, nu este prevăzut.

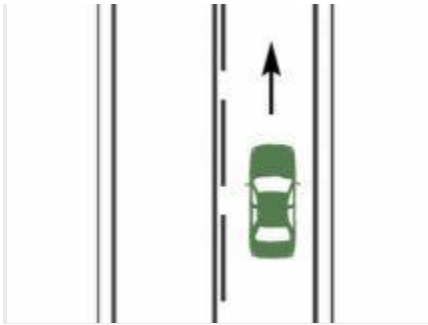
- **13.** Care este semnalizarea specifică mersului înapoi?
- **A** claxonatul intermitent, pentru a-i atenționa pe participanții la trafic din spatele vehiculului;
- **B** semnalizarea cu luminile de mers înapoi din dotarea autovehiculului;
- **C** folosirea luminilor de avarie.



- **14.** Conducătorul autocamionului poate pătrunde în intersecție?
- **A** da;
- **B** nu, în intersecție vor pătrunde tramvaiul și autoturismul;
- **C** nu, indicatorul „Cedează trecerea“ îl obligă să acorde prioritate celorlalte vehicule.

- **15.** Cum trebuie să procedeze conducătorul de autovehicul înainte de a se angaja într-o depășire?

- **A** semnalizează și se apropie cât mai mult de axul drumului, pentru a-și asigura vizibilitatea asupra circulației din sens opus;
 - **B** avertizează prin semnale acustice sau optice pe conducătorul vehiculului ce urmează a fi depășit;
 - **C** se asigură că manevra se poate efectua în condiții de siguranță, după care semnalizează intenția de a schimba direcția de mers.
- **16.** Cum trebuie să semnalizați intenția de a depăși alte vehicule, atunci când conduceți autovehiculul noaptea, pe un drum neiluminat dintr-o localitate?
- **A** cu luminile farurilor;
 - **B** prin folosirea luminii de drum sau a claxonului;
 - **C** cu luminile indicatoare de direcție.

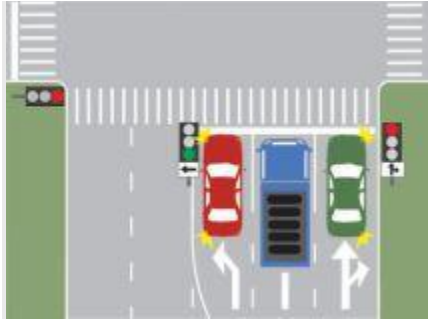


- **17.** Aveți posibilitatea de a trece pe sensul opus de mers, la întâlnirea unui astfel de marcaj rutier?
- **A** legal, nu este stabilit acest aspect;
 - **B** da;
 - **C** nu.

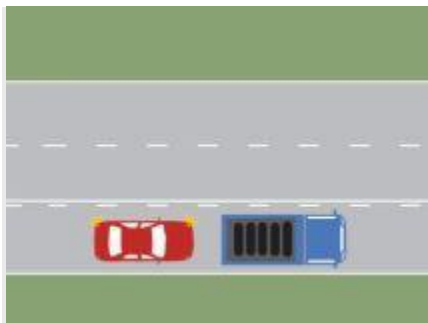


- **18.** Indicatorul semnifică:
- **A** sfârșitul interzicerii de a depăși;
 - **B** sfârșitul tuturor restricțiilor;
 - **C** interzicerea depășirii autovehiculelor, cu excepția motocicletelor fără ataș.

- 19. Cu ce viteză se poate circula în apropierea unei intersecții?
- A limita maximă de viteză va fi respectată doar în cazul intersecțiilor dirijate;
- B cu o viteză care să permită oprirea, pentru a acorda prioritate de trecere participanților la trafic care au acest drept;
- C limita maximă de viteză în localități va fi de 50 km/h, iar în afara localităților de 130 km/h.

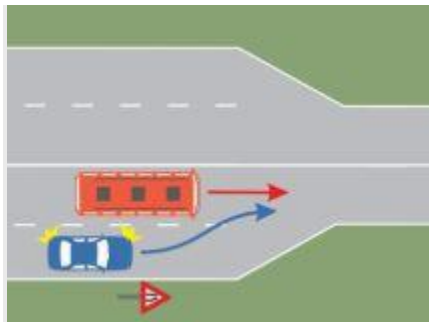


- 20. Ce autovehicul își poate continua deplasarea în imaginea prezentată?
 - A autocamionul;
 - B autoturismul verde;
 - C autoturismul roșu.
- 21. Dezinfecția plăgilor ce necesită a fi pansate se face cu:
 - A apă oxigenată sau iod;
 - B ser fiziologic;
 - C apă potabilă.



- 22. Puteți depăși în această situație, dacă vă aflați la volanul autoturismului?
- A nu, deoarece treceți de axul drumului;
- B da, manevra este regulamentară;

- **C** nu, deoarece marcajul orizontal interzice manevra.



- **23.** Cine are prioritate pe sectorul de drum îngustat?
 - **A** autoturismul, deoarece circulă în dreapta autobuzului;
 - **B** autobuzul, deoarece nu-și schimbă poziția de mers;
 - **C** autoturismul, deoarece are o viteză de deplasare mai mare.
- **24.** Cum se procedează cu accidentatul readus la viață prin resuscitare cardio-respiratorie?
 - **A** se va transporta la domiciliu sau la locul de muncă;
 - **B** se va transporta întotdeauna la o unitate medicală specializată;
 - **C** se va aștepta sosirea poliției rutiere.



- **25.** Puteți efectua depășirea în situația dată?
 - **A** nu;
 - **B** da, dacă v-ați asigurat din ambele sensuri că nu se apropie niciun tren;
 - **C** da, deoarece căruța se deplasează cu o viteză foarte mică.



- **26.** Cum trebuie să procedați în acest caz?
- **A** accelerați, pentru a trece prin fața pietonilor;
- **B** dați un semnal scurt de avertizare, pentru ca pietonii să nu se angajeze în traversare;
- **C** opriți, pentru a permite pietonilor traversarea.