


Intrebare #1.**Cum este corect sa procedati daca parasiti drumul prioritar?**

- A. aveti prioritate, deoarece va aflati pe un drum prioritar;
- B. cedati trecerea vehiculelor care vin din fata;
- C. cedati trecerea vehiculelor care vin din dreapta.



0 comentarii

Intrebare #2.**Autoturismul echipat cu o remorca poate circula pe autostrada?**

- A. nu;
- B. da, daca ansamblul respectiv poate depasi viteza de 50 km/h;
- C. da, daca ati obtinut autorizatie de la politia rutiera.

0 comentarii

Intrebare #3.**Cand este permisa trecerea la nivel cu o cale ferata fara bariere, prevazuta cu semnalizare luminoasa, daca tocmai a trecut un tren?**

- A. dupa ce s-a stins lumina rosie intermitenta;
- B. dupa ce a trecut ultimul vagon;
- C. atunci cand pleaca vehiculele aflate de cealalta parte a caii ferate.

0 comentarii

Intrebare #4.**Precizati daca presiunea din pneuri are efect asupra consumului de carburant:**

- A. da;
- B. nu;
- C. numai in cazul vehiculelor de mare tonaj.



0 comentarii

Intrebare #5.**Cum trebuie să procedați pentru a vă păstra starea de vigilență pe tot parcursul deplasării?**

- A. conduceți cât mai încordat, cu fața cât mai aproape de parbriz, pentru a vedea tot ce se întâmplă pe drumul public, în fața dvs.;
- B. vă concentrați atenția, dar adoptați o atitudine relaxată la volan, având control asupra efectuării tuturor manevrelor de care depinde siguranța călătoriei;
- C. vă găsiți o preocupare mai plăcută, cum ar fi manevrarea aparaturii radio-video, întreținerea unor discuții cu pasagerii sau folosirea telefonului mobil.

0 comentarii

Intrebare #6.**Tramvaiul poate fi depasit pe partea stanga?**

<input type="checkbox"/>	A. nu;
<input type="checkbox"/>	B. da, in statiile fara refugiu, pentru protejarea calatorilor care urca sau coboara;
<input checked="" type="checkbox"/>	C. da, atunci cand intre sina din dreapta si bordura nu exista spatiu suficient pentru depasire.
0 comentarii	

Intrebare #7.
Ce obligatii aveti atunci cand urmeaza sa parasiti autostrada?

<input type="checkbox"/>	A. sa reduceti viteza incepand cu 300 m inainte de iesirea de pe autostrada, in dreptul panoului care marcheaza aceasta distanta;
<input type="checkbox"/>	B. sa circulati pe prima banda cu o viteza de maximum 60 km/ora;
<input checked="" type="checkbox"/>	C. sa semnalizati din timp si sa va angajati pe banda de iesire (decelerare).
0 comentarii	

Intrebare #8.
Se pedepsesc penal urmatoarele actiuni:

<input checked="" type="checkbox"/>	A. instalarea de mijloace de semnalizare rutiera sau modificarea pozitiei acestora fara autorizatie legala;
<input checked="" type="checkbox"/>	B. organizarea sau participarea, in calitate de conducator auto sau de animale, la intreceri neautorizate pe drumurile publice;
<input checked="" type="checkbox"/>	C. blocarea cu intentie a drumului public, daca se pune in pericol siguranta circulatiei.
6 comentarii	

Intrebare #9.
Intoarcerea unui autovehicul este interzisa:

<input type="checkbox"/>	A. la o distanta mai mica de 100 m de statiile de autobuz, troleibuz sau tramvai;
<input type="checkbox"/>	B. pe drumurile pe care o banda de circulatie este ocupata de linia de tramvai;
<input checked="" type="checkbox"/>	C. la mai putin de 50 m de trecerea la nivel cu o cale ferata curenta.
0 comentarii	

Intrebare #10.
Oprirea hemoragiei se face prin legarea stransa a bratului:

<input type="checkbox"/>	A. in dreptul ranii;
<input checked="" type="checkbox"/>	B. deasupra ranii;
<input type="checkbox"/>	C. sub rana.
0 comentarii	

Intrebare #11.
Care este rolul uleiului pentru motor?

<input type="checkbox"/>	A. asigura demontarea mai usoara a pieselor motorului;
<input checked="" type="checkbox"/>	B. reduce uzura motorului, prin crearea unui film rezistent de lubrifiant intre suprafetele pieselor aflate in miscare;
<input type="checkbox"/>	C. protejeaza motorul fata de patrunderea amestecului carburant in baia de ulei.
0 comentarii	

Intrebare #12.

Purtarea centurii de siguranta este obligatorie in timpul circulatiei pe drumurile din localitati?

- A. nu;
- B. da, numai de catre conducatorul autovehiculului;
- C. da, de catre cel de la volan si de catre pasagerii care ocupa locurile prevazute cu asemenea dispozitive.

1 comentarii

Intrebare #13.

În care dintre următoarele situații este interzisă oprirea?

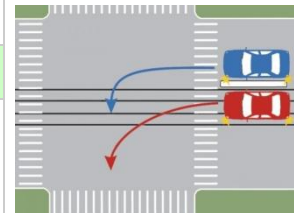
- A. pe sectoarele de drum neiluminate;
- B. la o distanță mai mică de 5 m față de spatele unui tramvai;
- C. pe drumurile naționale europene.

0 comentarii

Intrebare #14.

Care dintre autoturisme s-a incadrat corect pentru a schimba directia de mers?

- A. autoturismul rosu;
- B. autoturismul albastru;
- C. ambele autoturisme.



0 comentarii

Intrebare #15.

In ce ordine vor trece prin intersectie cele trei autoturisme?

- A. rosu, albastru, verde;
- B. verde, rosu, albastru;
- C. albastru, rosu, verde.



4 comentarii

Intrebare #16.

Intentionati sa va puneti in miscare dintr-o parcare de pe marginea soselei. In spatele dvs. parcheaza un autoturism. Ce pericol prezinta aceasta situatie?

- A. niciun pericol;
- B. vehiculele care circula din sens opus va pot observa cu intarziere;
- C. din cauza vizibilitatii reduse din spate, vehiculele care vin din urma pot observa cu intarziere semnalizarea vehiculului dvs.

0 comentarii

Intrebare #17.

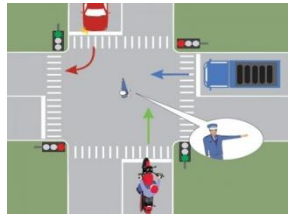
Dacă într-o intersecție conducătorul de vehicul întâlnește semnalul verde al semaforului, precum și indicatorul "Cedează trecerea", el este obligat:

- A. să respecte semnificația semnalului verde;

<input type="checkbox"/>	B. să respecte semnificația indicatorului;
<input type="checkbox"/>	C. să respecte semnificația semnalului verde, acordând prioritate de trecere vehiculelor care circulă pe drumul prioritar.

0 comentarii

Intrebare #18.
Care dintre autovehicule au dreptul sa intre in intersectie?

<input type="checkbox"/>	A. Autocamionul si motocicletă;	
<input type="checkbox"/>	B. Autoturismul si autocamionul;	
<input checked="" type="checkbox"/>	C. Autoturismul si motocicletă.	


0 comentarii

Intrebare #19.
În care dintre următoarele situații sunteți obligat să circulați cu o viteză care să nu depășească 30 km/h în localități?

<input type="checkbox"/>	A. la trecerile pentru pietoni semaforizate;
<input type="checkbox"/>	B. la circulația pe poduri;
<input checked="" type="checkbox"/>	C. pe drumurile cu denivelări semnalizate ca atare.

0 comentarii

Intrebare #20.
Unde se intalneste acest indicator?

<input type="checkbox"/>	A. in zonele de deal si de munte;	
<input checked="" type="checkbox"/>	B. la inceputul sectoarelor de drum acoperite de zapada, gheata sau polei;	
<input type="checkbox"/>	C. pe toate drumurile lunecoase.	

0 comentarii

Intrebare #21.
Cum trebuie sa procedati atunci cand, circuland pe drumul national intr-o localitate rurala, treceti pe langa o coloana militara care se deplaseaza in aceeasi directie?

<input type="checkbox"/>	A. Mariti viteza si depasiti coloana;
<input type="checkbox"/>	B. Folositi avertizorul sonor de la minimum 150 m;
<input checked="" type="checkbox"/>	C. Reduceti viteza pana la limitele prevazute de lege, daca drumul are o singura banda pe sens.

0 comentarii

Intrebare #22.
Purtarea centurii de siguranta nu este obligatorie in localitati pentru:

<input type="checkbox"/>	A. copiii cu varsta de pana la 12 ani;
<input checked="" type="checkbox"/>	B. persoanele care poseda un document in acest sens, emis de o institutie medicala de specialitate;
<input checked="" type="checkbox"/>	C. femeia care prezinta o sarcina vizibila.

0 comentarii

Intrebare #23.
Imobilizarea unui vehicul de catre politistul rutier se dispune:

- A. pentru lipsa triunghiurilor reflectorizante;
- B. pentru lipsa trusei medicale de prim ajutor;
- C. pentru refuzul de legitimare.

0 comentarii

Intrebare #24.
Cum procedati corect daca circulati inainte si semaforul indica lumina galbena intermitenta?

- A. opriti, deoarece la urmatoarea comutare va aparea lumina rosie;
- B. reduceti viteza, iar daca se impune, acordati prioritate;
- C. opriti intotdeauna.

0 comentarii

Intrebare #25.
Cum veți proceda la întâlnirea semnalului intermitent de culoare galbenă?

- A. acest semnal nu vă permite trecerea;
- B. veți circula cu viteză redusă;
- C. veți respecta semnificația semnalizării rutiere și a regulilor de circulație aplicabile în acel loc.

3 comentarii

Intrebare #26.
Intoarcerea unui autovehicul este interzisa:

- A. la o distanta mai mica de 50 m de statia de autobuz, troleibuz sau tramvai
- B. in rampa, unde vizibilitatea este sub 50 m
- C. pe strazile pe care circulatia se desfasoara in ambele sensuri