

Intrebare #1.**În situația dată, sunteți avertizat că:**

- A. vă apropiați de o trecere la nivel cu calea ferată prevăzută cu bariere;
- B. vă apropiați de o trecere la nivel cu o cale ferată industrială;
- C. vă apropiați de un chei sau de un mal abrupt.



0 comentarii

Intrebare #2.**Instalațiile de semnalizare și iluminare ale unui autovehicul trebuie:**

- A. să funcționeze doar pe timp de noapte;
- B. să corespundă condițiilor tehnice impuse și să fie omologate de către autoritatea competentă;
- C. să nu fie folosite în mediul urban.

0 comentarii

Intrebare #3.**La calea ferată curentă prevăzută cu bariere, atunci când semnalele sonore și luminoase de culoare roșie sunt în funcțiune, sunteți avertizat ca:**

- A. instalația de închidere și deschidere a barierelor nu funcționează normal;
- B. trenul se apropie, urmând ca barierele să se închidă automat;
- C. trebuie să traversați de urgență calea ferată.

0 comentarii

Intrebare #4.**Ce se înțelege prin conducere ecologică a unui autovehicul?**

- A. obligația de a folosi în permanență carburant biodegradabil;
- B. deplasări urbane cu bicicleta, pe jos sau cu alte mijloace care nu poluează atmosfera;
- C. un ansamblu de măsuri comportamentale, de control sau de verificare a vehiculului, prin care se realizează o importantă economie de energie și protecția mediului.

2 comentarii

Intrebare #5.**Este recomandabil să păstrăm sau să depozităm anumite obiecte pe podeaua autovehiculului?**

- A. da, atâta vreme cât acestea nu ne stânjenesc în acțiunea comenzilor autovehiculului;
- B. da, dacă nu mai există un alt loc în care să așezăm obiectele de mici dimensiuni;
- C. nu, întrucât există posibilitatea rostogolirii acestor obiecte, care pot ajunge sub pedale și crea situații periculoase.

0 comentarii

Intrebare #6.**În ce situații nu vă este permisă depășirea?**

- A. când un autobuz se află oprit în stație;
- B. pe un drum în rampă, când vizibilitatea este peste 50 m;

C. într-o intersecție nedirijată.

0 comentarii

Intrebare #7.

Viteza maxima autorizata pe autostrazi pentru autovehiculele din categoriile A si B este de:

A. 90 km/h;

B. 110 km/h;

C. 130 km/h.



0 comentarii

Intrebare #8.

Conducatorul unui vehicul implicat intr-un accident de circulatie, din care au rezultat numai pagube materiale, este obligat sa se supuna recoltarii probelor biologice, daca aerul expirat, testat cu un aparat autorizat, arata o concentratie:

A. mai mica de 0,40 mg/l alcool pur;

B. mai mare de 0,80 mg/l alcool pur;

C. mai mare de 0,40 mg/l alcool pur.

0 comentarii

Intrebare #9.

Cand nu va este permisa intoarcerea vehiculului?

A. cand latimea drumului public este mai mica de 7 m;

B. la urcarea pantelor;

C. pe marcajul pietonal.

9 comentarii

Intrebare #10.

Ce trebuie sa faceti pentru evitarea complicatiilor in cazul unei fracturi?

A. sa imobilizati zona fracturata;

B. sa sterilizati si sa pansati zona fracturata;

C. sa aplicati un garou de cauciuc deasupra fracturii.

0 comentarii

Intrebare #11.

Ce deprindere gresita a conducatorului auto determina frecvent defectarea ambreiajului?

A. coborarea pantelor cu motorul oprit sau aducerea schimbatorului de viteze in punctul mort;

B. rulara cu jocuri mari la pedala de ambreiaj sau la mecanismul de directie;

C. asteptarea la semafor avand pedala de ambreiaj apasata.

0 comentarii

Intrebare #12.

In care dintre urmatoarele situatii conducatorul unui autovehicul este obligat sa foloseasca luminile de intalnire sau de drum?


- A. in cazul arterelor de circulatie slab iluminate, cand vizibilitatea este redusa, in mers, atat in localitati, cat si in afara acestora;
- B. in cazul stationarii pe timp de noapte pe partea carosabila a drumurilor nationale sau in cazul parcarii autovehiculului in locuri special amenajate, dar neiluminate;
- C. pe timp de zi pe drumurile nationale, in situatiile in care traficul este supraaglomerat.

0 comentarii

Intrebare #13.

Ați executat corect oprirea în această situație?

- A. da, pentru că autobuzul nu se află în acest moment în stație;
- B. nu, pentru că acest spațiu este rezervat doar opririi autobuzului;
- C. da, dacă semnalizați acest lucru cu lumina galbenă intermitentă.

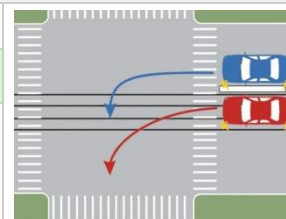


0 comentarii

Intrebare #14.

Care dintre autoturisme s-a incadrat corect pentru a schimba directia de mers?

- A. autoturismul rosu;
- B. autoturismul albastru;
- C. ambele autoturisme.

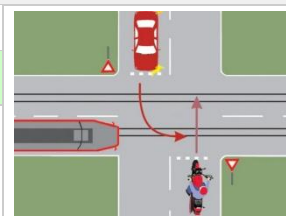


0 comentarii

Intrebare #15.

Care dintre cele trei vehicule va trece ultimul prin intersectie?

- A. motocicletă;
- B. autoturismul;
- C. tramvaiul.



0 comentarii

Intrebare #16.

Balansarea, in plan vertical, a bratului drept al unui biciclist semnifica:

- A. intentia de a schimba directia de mers la dreapta;
- B. intentia de a opri;
- C. intentia de a se angaja in depasire.

0 comentarii

Intrebare #17.

Cum veti proceda in situatia data?

- A. reduceti viteza si traversati cu atentie;
- B. opriti si asteptati aparitia luminii de culoare verde;



C. acordati prioritate pietonilor, dupa care va continuati deplasarea.	
---	--

0 comentarii

Intrebare #18.

Ce semnificatie are, dupa coborarea bratelor, pozitia corpului unui politist care dirijeaza circulatia, pentru participantii la trafic care circula din fata si spatele sau?

<input type="checkbox"/>	A. nicio semnificatie;
<input type="checkbox"/>	B. permisiunea de a circula;
<input checked="" type="checkbox"/>	C. oprire.

0 comentarii

Intrebare #19.

Într-o zonă rezidențială puteți circula cu:

<input type="checkbox"/>	A. viteza minimă obligatorie de 20 km/h;
<input checked="" type="checkbox"/>	B. viteza maximă de 20 km/h;
<input type="checkbox"/>	C. viteza maximă de 30 km/h.

0 comentarii

Intrebare #20.

Ce semnificatie are marcajul longitudinal aplicat sub forma unei linii continue pe axul drumurilor publice?

<input type="checkbox"/>	A. ajuta conducatorii auto sa se orienteze pe timp de noapte;
<input checked="" type="checkbox"/>	B. nu permite incalcarearea lui de catre conducatorii de vehicule;
<input type="checkbox"/>	C. permite depasirea vehiculelor.

0 comentarii

Intrebare #21.

La intalnirea unui vehicul care circula noaptea, din sens opus, pe un drum neiluminat, conducatorul de autovehicul este obligat:

<input type="checkbox"/>	A. sa circule cat mai aproape de marginea din dreapta a drumului
<input checked="" type="checkbox"/>	B. sa reduca viteza
<input type="checkbox"/>	C. sa foloseasca avertizorul sonor

7 comentarii

Intrebare #22.

Luminile de pozitie se folosesc, pe timp de zi, atunci cand autovehiculul este oprit:

<input type="checkbox"/>	A. pentru urcarea sau coborarea pasagerilor;
<input type="checkbox"/>	B. din cauza unor avarii;
<input checked="" type="checkbox"/>	C. pentru ca vizibilitatea este redusa.

1 comentarii

Intrebare #23.

Ce masuri ia conducatorul de autovehicul, angajat intr-un accident cu avarii usoare?

<input type="checkbox"/>	A. asteapta sosirea politistului din zona;
<input checked="" type="checkbox"/>	B. scoate autovehiculul in afara partii carosabile si anunta politia in termen de 24 de ore;
<input type="checkbox"/>	C. anunta politia, fara a schimba pozitia autovehiculului.

0 comentarii

Intrebare #24.

Precizati daca posesorul unui permis de conducere categoria B are permisiunea de a conduce un autoturism cu remorca:

- | | |
|-------------------------------------|--|
| <input type="checkbox"/> | A. da, cu conditia ca acesta sa aiba permis de cel putin 3 ani; |
| <input checked="" type="checkbox"/> | B. da, daca masa remorcii nu depaseste 750 kg; |
| <input type="checkbox"/> | C. nu, deoarece pentru o astfel de remorca este necesar un permis de conducere categoria BE. |

0 comentarii

Intrebare #25.

Ce se intelege prin vigilenta, din punct de vedere al conduitei preventive?

- | | |
|-------------------------------------|---|
| <input type="checkbox"/> | A. capacitatea de a nu intra in conflict cu organele de politie rutiera; |
| <input type="checkbox"/> | B. sa fiti odihnit si bine alimentat, pentru a nu fi obligat sa opriti pe traseu; |
| <input checked="" type="checkbox"/> | C. mentinerea neintrerupta a atentiei pe toata durata deplasarii. |

0 comentarii

Intrebare #26.

Conducatorul unui vehicul este obligat sa acorde prioritate de trecere intr-o intersectie nedirijata daca:

- | | |
|-------------------------------------|---|
| <input type="checkbox"/> | A. patrunde pe un drum judetean, venind de pe un drum national |
| <input checked="" type="checkbox"/> | B. patrunde pe un drum national, venind de pe un drum judetean, comunal sau local |
| <input type="checkbox"/> | C. patrunde pe un drum comunal sau local, venind de pe un drum judetean |