

Intrebare #1.
Ce obligatii aveti la intalnirea indicatorului?

- A. sa nu depasiti viteza de 50 km/h, deoarece urmeaza o curba deosebit de periculoasa spre dreapta;
- B. sa reduceti viteza pana la 40 km/h si sa circulati cu faza de intalnire;
- C. sa nu depasiti vehiculele de transport de marfuri.



0 comentarii

Intrebare #2.
Instalatiile de semnalizare si iluminare ale unui autovehicul trebuie:

- A. sa functioneze doar pe timp de noapte;
- B. sa corespunda conditiilor tehnice impuse si sa fie omologate de catre autoritatea competenta;
- C. sa nu fie folosite in mediul urban.

0 comentarii

Intrebare #3.
Cum veti proceda corect daca, la apropierea de o trecere la nivel cu o cale ferata prevazuta cu semnalizare automate, semnalele sonore si luminile rosii sunt in functiune?

- A. reduceti viteza si opriti inaintea sembarierelor;
- B. ocoliti sembariera si va continuati drumul, daca trenul nu se apropie;
- C. mariti viteza pentru a nu fi surprinsi de inchiderea sembarierei.

0 comentarii

Intrebare #4.
Utilizarea sistemului de climatizare are ca efect:

- A. cresterea consumului de combustibil;
- B. reducerea consumului de combustibil;
- C. scaderea puternica a gradului de confort.

6 comentarii

Intrebare #5.
Factorii principali care ajuta un conducator auto sa piloteze preventiv sunt:

- A. atitudinea pozitiva in trafic, calmul, cunostintele dobandite si politetea
- B. iscusinta si priceperea de a-si impune calitatile fizice dobandite
- C. mijloacele de semnalizare rutiera si agentii de politie rutiera

0 comentarii

Intrebare #6.
Pot fi depasite autovehiculele pe partea dreapta?

- A. nu, in nicio situatie;
- B. da, daca spatiul lateral dintre vehicule permite acest lucru;
- C. da, in cazul vehiculelor care urmeaza sa vireze la stanga, iar spatiul ramas permite

depasirea prin dreapta.

1 comentarii

Intrebare #7.

Daca vreti sa parasiti autostrada:

- A. mariti viteza;
- B. circulati cu aceeasi viteza;
- C. reduceti viteza.



15 comentarii

Intrebare #8.

Exercitarea dreptului de a conduce se suspenda pe o perioada de 30 de zile pentru:

- A. nerespectarea regulilor referitoare la remorcare;
- B. utilizarea excesiva a claxonului;
- C. depasirea unei coloane de vehicule oprite la culoarea rosie a semaforului.

0 comentarii

Intrebare #9.

Cand nu va este permisa intoarcerea vehiculului?

- A. cand latimea drumului public este mai mica de 7 m;
- B. la urcarea pantelor;
- C. pe marcajul pietonal.

9 comentarii

Intrebare #10.

In ranile cu hemoragie se va avea in vedere, in faza initiala:

- A. curatarea si pansarea ranii;
- B. pansarea ranii;
- C. oprirea hemoragiei.

0 comentarii

Intrebare #11.

Circulatia frecventa cu termostatul defect si, implicit, cu o temperatura a lichidului de racire sub 60 grade C conduce la:

- A. cresterea consumului de combustibil;
- B. imposibilitatea incalzirii habitacului;
- C. blocarea pompei de apa.

0 comentarii

Intrebare #12.

Conducatorii de autovehicule au urmatoarele obligatii, inainte de a pleca la drum:

- A. Sa verifice sistemul de lumini si semnalizare;

- B. Sa verifice instalatia de climatizare;
- C. Sa mentina permanent curat parbrizul.
- 16 comentarii

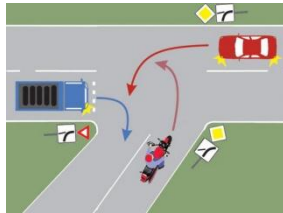
Intrebare #13.
Care este deosebirea dintre oprire si stationare?

- A. niciuna;
- B. deosebirea consta in durata de imobilizare a vehiculului;
- C. deosebirea consta in modul de asezare si asigurare a autovehiculului pe drum.
- 0 comentarii

Intrebare #14.
Pe care dintre cele doua benzi trebuie sa se incadreze conducatorul de vehicul si de la ce distanta fata de intersectie, pentru a schimba directia de mers spre dreapta, intr-o localitate?

- A. pe banda de langa axul drumului, de la cel putin 100 m
- B. pe banda din dreapta, de la cel putin 50 m
- C. pe oricare banda, de la cel putin 50 m
- 3 comentarii

Intrebare #15.
Care dintre vehiculele din imagine va intra primul in intersectie?

- A. autoturismul;
- B. motocicletata;
- C. autocamionul.
- 
- 0 comentarii


Intrebare #16.
Cand aveti voie sa fiti agresiv in timpul conducerii pe drumurile publice?

- A. atunci cand cel din fata ruleaza cu viteza redusa, fara motiv intemeiat;
- B. in nicio situatie, indiferent de ceea ce se intampla cu ceilalti participanti la trafic;
- C. atunci cand cel din fata v-a facut semne obscene.
- 0 comentarii

Intrebare #17.
Daca semnalul verde este insotit de un indicator Inainte sau la dreapta , conducatorului de vehicul ii este permis sa circule:

- A. in toate directiile, deoarece semnalele luminoase primeaza asupra semnalizarii rutiere;
- B. numai la stanga;
- C. numai inainte sau la dreapta.
- 0 comentarii

Intrebare #18.
Semnalul politistului din autovehiculul de politie semnifica:

<input checked="" type="checkbox"/>	A. oprire;	
	B. mariti viteza;	
	C. reduceti viteza.	


0 comentarii

Intrebare #19.
Cu ce viteza maxima pot circula in afara localitatilor autovehiculele din categoriile A si B?

<input checked="" type="checkbox"/>	A. 130 km/h pe autostrazi, 100 km/h pe drumurile expres sau nationale europene si 90 km/h pe celelalte categorii de drumuri;
	B. 110 km/h pe autostrazi, 90 km/h pe drumurile expres sau nationale europene si 80 km/h pe celelalte categorii de drumuri;
	C. 130 km/h pe autostrazi si 80 km/h pe celelalte categorii de drumuri.

0 comentarii

Intrebare #20.
Indicatorul urmator va arata ca:

<input checked="" type="checkbox"/>	A. aveti prioritate de trecere fata de vehiculele care circula din sens opus;	
	B. incepe un drum cu sens unic;	
	C. trebuie sa acordati prioritate vehiculelor care circula din sens opus.	

0 comentarii

Intrebare #21.
Conducatorilor de vehicule le este interzis:

<input checked="" type="checkbox"/>	A. sa profereze injurii;
<input checked="" type="checkbox"/>	B. sa savarseasca acte sau gesturi obscene;
<input checked="" type="checkbox"/>	C. sa adreseze celorlalti participanti la trafic expresii jignitoare sau vulgare.

0 comentarii

Intrebare #22.
Cand se folosesc luminile de avarie?

<input checked="" type="checkbox"/>	A. cand un vehicul a ramas in pana sau a fost avariat, fiind imobilizat pe carosabil;
<input checked="" type="checkbox"/>	B. cand vehiculul se deplaseaza foarte lent si constituie un pericol pentru ceilalti participanti la trafic;
<input checked="" type="checkbox"/>	C. cand autovehiculul este remorcat.

11 comentarii

Intrebare #23.
Se aplica puncte de penalizare pentru:

<input checked="" type="checkbox"/>	A. circulatia sau stationarea pe spatiul interzis care separa sensurile de circulatie pe autostrada;
	B. conducerea unui autovehicul cu permisul de conducere deteriorat;

C. lipsa unui stergator de parbriz.

0 comentarii

Intrebare #24.

Care dintre cele trei vehicule trece primul prin intersectie?



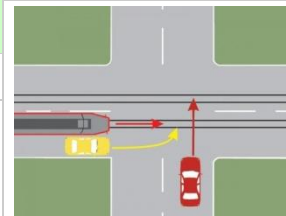
A. tramvaiul, deoarece are prioritate in mers;



B. autoturismul galben, deoarece isi schimba directia de mers;



C. autoturismul rosu, deoarece vine din dreapta celorlalte doua vehicule.



0 comentarii

Intrebare #25.

Cum veti proceda in aceasta situatie?



A. urmati vehiculul care executa depasirea;



B. ramaneti in spatele camionului;



C. indicatorul se adreseaza vehiculelor care circula din sens opus.



0 comentarii

Intrebare #26.

Cum veți proceda la întâlnirea semnalului intermitent de culoare galbenă?



A. acest semnal nu vă permite trecerea;



B. veți circula cu viteză redusă;



C. veți respecta semnificația semnalizării rutiere și a regulilor de circulație aplicabile în acel loc.